

001

455

**ВСЕРОССИЙСКАЯ ОЛИМПИАДА ШКОЛЬНИКОВ  
ПО ИСТОРИИ. ШКОЛЬНЫЙ ЭТАП.  
9 КЛАСС (77 баллов)  
2020-2021 учебный год**

**1. В Куликовской битве участвовали**

- А) Биргер, Александр Ярославич, Гаврило Олексич, Сбыслав Якунович
- Б) Мстислав Удалой, Даниил Романович, Субедей, Котян
- В) Дмитрий Иванович Московский, Владимир Андреевич Серпуховский, Мамай, Дмитрий Михайлович Боброк-Волынский
- Г) Витовт, Ягайло, Темир-Куглуг, Едигей

**Всего 16.**

**2. О каком сражении написаны эти строки?**

«Сей день пребудет вечным памятником мужества и отличной храбрости российских воинов, где вся пехота, кавалерия и артиллерия дрались отчаянно. Желание всякого было умереть на месте и не уступить неприятелю»

- А) Куликовская битва
- Б) Полтавская битва
- В) Бородинская битва
- Г) битва на реке Шелони

**Всего 16.**

**3. При князе Олеге произошли следующие события**

- А) Киев стал центром формирующейся государственности, под его властью оказались соседние племена
- Б) дружина стала собирать дань с подчиненных Киеву земель
- В) Олег первым принял крещение
- Г) Олег принял первый свод законов на Руси
- Д) Олег совершил поход на Константинополь и заключил выгодный для Киева договор

**Всего 3 б.**

**4. Какой из этих памятников архитектуры относится к стилю классицизма?**

- А) Большой Дворец в Петергофе
- Б) Дом Пашкова в Москве
- В) Зимний дворец
- Г) Меншикова башня
- Д) Таврический дворец
- Е) Голицынская больница

**Всего 3 б.**

**5. Соотнесите храмы и их местонахождение:**

- А) Десятинная церковь
  - Б) храм Покрова на Нерли
  - В) Георгиевский собор Юрьева монастыря
  - Г) Храм Покрова на Рву
  - Д) Архангельский собор
  - Е) церковь Вознесения
1. село Коломенское
  2. Красная площадь в Москве
  3. Московский Кремль
  4. Киев
  5. Новгород
  6. Владимир

**Ответ: А - 4; Б - 6; В - 5; Г - 2; Д - 3; Е - 1.**

**Всего 6 б.**

**6. Расположите в хронологической последовательности:**

- А. Сражение при Синопе.
- Б. Адрианопольский мир.
- В. Заграничные походы русской армии.
- Г. Пекинский договор с Китаем.
- Д. Участие России в III и IV антинаполеоновских коалициях

**Ответ: г, в, б, а, з.**

**Всего 5б.**

**7. Расположите в хронологической последовательности события Северной войны:**

- А) сражение у мыса Гангут
- Б) взятие Б.П. Шереметевым Нотебурга

- В) сражение у острова Гренгам
- Г) Полтавская битва
- Д) битва у деревни Лесная
- Е) Ништадский мирный договор

Ответ: б, д, г, а, в, е

Всего 6б.

8. По какому принципу образованы ряды?

1. 1768-1774, 11787-1791, 1806-1812, 1828-1829, 1877-1878 гг.

2. Дань, натуральный сбор, соха, выход

3. А. Д. Захаров, А. Фиорованти, К. А. Тон, А. И. Штакеншнейдер.

Всего 3 б.

9. По какому принципу образованы ряды? Что и почему является лишним?

А) Летний дворец, Петропавловский собор, здание Двенадцати коллегий, Зимний дворец  
Зимний дворец лишний, т.к. ост. - арх. сооруж. Двенадцати Коллегий

Б) Берковец, золотник, вершок, фунт  
Берковец - мера длины; ост. мера массы

35 В) 1238, 1378, 1395, 1480  
1395 борьба с мамлюками; ост. битвы с монголами татарами.

Всего 6 б.

10. Подпишите фамилии и расположите лидеров коммунистической партии в том порядке, в котором они ее возглавляли.



А) Эммо З.

Б) К. У. Черненко

В) Н. С. Хрущев



Г) М. С. Горбачёв

Д) И. В. Сталин

Е) Л. Н. Брежнев


65.

Ответ: 1 - \_\_; 2 - \_\_; 3 - \_\_; 4 - \_\_; 5 - \_\_; 6 - \_\_.

Всего 6

11. Подпишите название архитектурных памятников, изображенных на иллюстрациях, и поставьте цифру на карте рядом с городом, где они находятся


1. Софийский собор, 3. Музей, 4. Князь Иван Великий, 5. Дмитриевский собор.




2.



3.

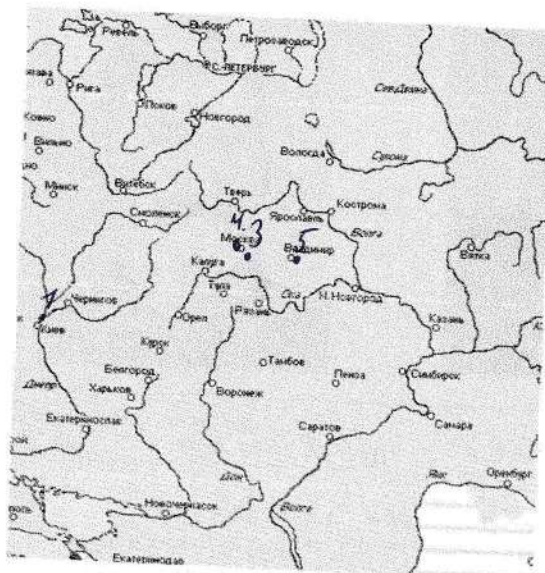


4.



5.

48.



12. Восстановите отрывок, вставив пропущенные слова

Всего 5 баллов

Самым ярким событием первого периода войны стало последнее крупное сражение парусного флота. 18 ноября 1853 г. отряд кораблей Черноморского флота под командованием вице-адмирала П. С. Нахичева провел предварительную разведку, атаковал в бухте Синопской бухте большой по численности турецкий флот. После трехчасового боя все корабли противника были потоплены.

После этого сражения и военных действий на Дунае правительства Англии и Франции поняли, что Пруссия не выдержит единоборства с Россией и вскоре после этого объявили войну России.

Всего 7 б.

13. Прочитайте отрывок из исторического сочинения С.М. Соловьева и ответьте на вопросы.

«Пешая русская рать уже лежала, как скошенное сено, и татары начали одолевать. Владимир (Владимир Алексеевич Серпуховский), видя, что победа клонится на сторону татар, начал говорить Волынскому: «Долго ль нам здесь стоять? Смотри, уже все христианские полки лежат мертвы?» Но Волынский отвечал, что еще нельзя выходить из засады, потому что ветер дует прямо в лицо русским. Но скоро ветер переменялся. «Теперь пора!» - сказал Волынский, и засадное ополчение бросилось на татар, которые не выдержали и побежали. Русские гнали их до реки Мечи и овладели всем их станом».

1. О каком событии идет речь в отрывке?
2. Когда оно произошло?
3. Как звали полководца, одержавшего победу в этом сражении?
4. В чем вы видите причины победы?

Ответ:

1) Куликовская битва. 21 1380 г.  
 2) Д. В. Донской  
 3) полководческий талант, патриотизм, объединение против монголо-татар.

Всего 5 б.

14. Историческое эссе

Темы эссе:

1. «Святослав не есть пример государя великого, ибо он славу побед уважал более государственного блага, и характером своим пленяя стихотворца, заслуживает укоризну историка» (Н.М. Карамзин)

2. «Княжение Дмитрия Донского принадлежит к самым несчастным и печальным эпохам многострадального русского народа» (Н.И. Костомаров).
3. «...Иван III принадлежит к числу весьма немногих государей, избираемых провидением решить недолго судьбу народов: он есть герой не только российский, но и всемирной истории» (Н.М. Карамзин).
4. В своих политических оценках Иван Грозный следовал несложным правилам. Только те начинания считались хорошими, которые укрепляли единодержавную власть.» (Р.Г. Скрынников).
5. «Смута завершилась победой средних социальных слоев над общественным верхом и низом. Они создали и поддержали новую государственную власть, защитницу своих интересов и представительницу национальной независимости». (А.Е. Пресняков).

**Всего 20 баллов** \_\_\_\_\_